



केन्द्रीय रिजर्व पुलिस बल CENTRAL RESERVE POLICE FORCE

Test Date	11/03/2023
Test Time	04:00 PM - 05:30 PM
Subject	Head Constable Ministerial

Section : Hindi Language

Q.1 निम्नलिखित वाक्य में किस शब्द का प्रयोग अशुद्ध है:
राजस्थान में कई दर्शनीयस्थल देखने योग्य हैं।

- Ans
- A. राजस्थान में
 - B. कई
 - C. देखने योग्य
 - D. दर्शनीयस्थल



INDIA

Question ID : 630680184735

Status : Answered

Chosen Option : C

Q.2 संज्ञा, विशेषण और सर्वनाम से बनने वाली धातु को क्या कहते हैं ?

- Ans
- A. नाम धातु क्रिया
 - B. संयुक्त क्रिया
 - C. प्रेरणार्थक क्रिया
 - D. अकर्मक क्रिया

Question ID : 630680179363

Status : Answered

Chosen Option : A

Q.3 निम्नलिखित वाक्य का काल भेद बताइए:
मैं तो सुबह का नाश्ता कर चुकी हूँ।

- Ans A. भूतकाल
 B. तात्कालिक वर्तमानकाल
 C. पूर्ण वर्तमानकाल
 D. भविष्यकाल

Question ID : 630680184746
Status : Answered
Chosen Option : A

Q.4 निम्नलिखित वाक्य में, शुद्ध शब्द के द्वारा रिक्त स्थान की पूर्ति कीजिए:
मेरा _____ आपके साथ है।

- Ans A. आशीवाद
 B. आशीर्वाद
 C. आशीर्बद
 D. अशीर्वाद

Question ID : 630680184713
Status : Answered
Chosen Option : B

Q.5 निम्नलिखित में से कौन सा शब्द गाय का पर्यायवाची शब्द नहीं है?

- Ans A. धेनु
 B. भद्रा
 C. अमला
 D. पयस्विनी

INDIA

Question ID : 630680184700
Status : Answered
Chosen Option : B

Q.6 रिक्त स्थान की पूर्ति उचित शब्द द्वारा कीजिए।
'न्यायधीश ने कैदी को _____ होने का आदेश दिया।'

- Ans A. बुलाने
 B. कैद
 C. आने
 D. हाजिर

Question ID : 630680184732
Status : Answered
Chosen Option : D

Q.7 वाक्य के रिक्त स्थान के लिए उपयुक्त विकल्प चुनकर वाक्य पूर्ण करें।
में जानना चाहता हूँ कि उसने मेरे साथ क्या _____ की ?

- Ans A. खराबी
 B. भलाई
 C. अच्छाई
 D. दुर्भावना

Question ID : 630680177076
Status : Answered
Chosen Option : C

Q.8 निम्नलिखित वाक्य में उचित अव्यय का प्रयोग कर वाक्य में रिक्त स्थान की पूर्ति करें:
पुस्तक विद्वता _____ लिखी गयी है।

- Ans A. पूर्ण
 B. साथ
 C. पूर्वक
 D. से

Question ID : 630680184752
Status : Answered
Chosen Option : C

Q.9 निम्नलिखित वाक्य में कौन सा कारक है:
'हिमालय पर्वत से गंगा निकलती है।'

- Ans A. कर्ता
 B. सम्बन्ध
 C. करण
 D. अपादान

Question ID : 630680184756
Status : Answered
Chosen Option : C

Q.10 निम्नलिखित वाक्य का काल भेद बताइए:
उसने अपने पालतू कुत्ते को मारा था।

- Ans A. संदिग्ध भूतकाल
 B. पूर्ण भूतकाल
 C. अपूर्ण भूतकाल
 D. संभाव्य वर्तमानकाल

Question ID : 630680184749
Status : Answered
Chosen Option : B

Q.11 निम्नलिखित लोकोक्ति को पढ़कर रिक्त स्थान की पूर्ति उचित शब्द द्वारा कीजिए:
जीभ और थैली का _____ रहना ही भला है।

- Ans
- A. खुला
 - B. संभालकर
 - C. सुरक्षित
 - D. बंद

Question ID : 630680184719
Status : Answered
Chosen Option : D

Q.12 निम्नलिखित वाक्य में रिक्त स्थान की पूर्ति, शुद्ध शब्द द्वारा कीजिए:
“मीराबाई एक महान _____ थीं।”

- Ans
- A. काव्यत्री
 - B. कवियित्री
 - C. कवियत्री
 - D. कवयित्री

Question ID : 630680184706
Status : Answered
Chosen Option : B

Q.13 रिक्त स्थान की पूर्ति, उचित शब्द द्वारा कीजिए।
शोषणकारी कृत्य किसी भी समाज में _____ के समान हैं।

- Ans
- A. समक्षता
 - B. स्वच्छता
 - C. प्रकाश
 - D. धब्बे

Question ID : 630680184729
Status : Answered
Chosen Option : D

Q.14 वाक्य के रिक्त स्थान के लिए उपयुक्त विकल्प चुनकर वाक्य पूर्ण करें।
_____ मार्च की 15 तारीख को समीर का विवाह होना सुनिश्चित किया गया है।

- Ans
- A. भावी
 - B. विगत
 - C. आगामी
 - D. आगत

Question ID : 630680177100
Status : Answered
Chosen Option : A

Q.15 निम्नलिखित वाक्य में किस शब्द का प्रयोग अशुद्ध है:
प्रधानमन्त्री, जनता के हितकर कल्याण के लिए कार्य कर रहे हैं।

- Ans
- A. जनता
 - B. कार्य कर रहे
 - C. कल्याण
 - D. हितकर

Question ID : 630680184736
Status : Answered
Chosen Option : D

Q.16 निम्नलिखित वाक्य में किस शब्द का प्रयोग अशुद्ध है:
श्रद्धा-भक्ति नामक शीर्षक निबंध अच्छा है।

- Ans
- A. श्रद्धा-भक्ति
 - B. अच्छा
 - C. नामक
 - D. शीर्षक

Question ID : 630680184737
Status : Answered
Chosen Option : D

Q.17 रिक्त स्थान की पूर्ति, उचित शब्द द्वारा कीजिए।
“ _____ मनुष्य को एक बेहतर इन्सान बनने में मदद करती है।”

- Ans
- A. उचित तानाशाह
 - B. स्वार्थी समाज
 - C. अशिक्षित कुटुंब
 - D. उचित शिक्षा

Question ID : 630680184726
Status : Answered
Chosen Option : D

Q.18 निम्नलिखित लोकोक्ति को पढ़कर रिक्त स्थान की पूर्ति उचित शब्द द्वारा कीजिए:
जेते जग में _____ है तेते अहें विचार।

- Ans
- A. मनुज
 - B. काम
 - C. नाम
 - D. जीवित

Question ID : 630680184720
Status : Answered
Chosen Option : A

Q.19 रिक्त स्थान की पूर्ति उचित शब्द द्वारा कीजिए।
ईश्वरचंद विद्यासागर सामाजिक _____ के खिलाफ लड़ने से नहीं घबराते थे।

- Ans A. बुराई
 B. भलाई
 C. बड़ाई
 D. समृद्धि

Question ID : 630680184731
Status : Answered
Chosen Option : A

Q.20 निम्नलिखित में से विलोम शब्द का कौन सा युग्म सही नहीं है?

- Ans A. परमार्थ-नित्यार्थ
 B. गुण-दोष
 C. गहरा-उथला
 D. ग्रामीण-नागर

Question ID : 630680184703
Status : Answered
Chosen Option : A

Comprehension:

नीचे दिए गये गद्य को पढ़ें और पुछे गये प्रश्नों के उत्तर दें:

मनुष्य सुख की खोज आदि काल से कर रहा है और इसी की प्राप्ति उसके जीवन का मुख्य उद्देश्य रहा है। दुःख से वह इतना घबराता है कि इस जीवन में ही नहीं, आने वाले जीवन में ऐसी व्यवस्था करना चाहता है कि वहाँ भी सुख का उपयोग कर सके। जन्नत और स्वर्ग, मोक्ष और नवनिर्माण सब उसी आकांक्षा की रचनाएँ हैं। सुख की प्राप्ति के लिए ही हमने जीवन को निस्सार और संसार को अनित्य कहकर अपने मन को शांत करने की चेष्टा की है। जब जीवन में कोई सार ही नहीं और संसार अनित्य है, तो फिर क्यों न इनसे मुँह मोड़कर बैठे ? लेकिन हम क्यों दुःखी होते हैं, वह कौन - सी मनोवृत्ति है जो हमें दुःख की ओर ले जाती है, उस पर हमने विचार नहीं किया है।

SubQuestion No : 21

Q.21 'जन्नत' किस प्रकार का शब्द है ?

- Ans A. अरबी
 B. फारसी
 C. तुर्की
 D. पुर्तगाली

Question ID : 630680179368
Status : Answered
Chosen Option : B

Comprehension:

नीचे दिए गये गद्य को पढ़ें और पुछे गये प्रश्नों के उत्तर दें:

मनुष्य सुख की खोज आदि काल से कर रहा है और इसी की प्राप्ति उसके जीवन का मुख्य उद्देश्य रहा है। दुःख से वह इतना घबराता है कि इस जीवन में ही नहीं, आने वाले जीवन में ऐसी व्यवस्था करना चाहता है कि वहाँ भी सुख का उपयोग कर सके। जन्त और स्वर्ग, मोक्ष और नवनिर्माण सब उसी आकांक्षा की रचनाएँ हैं। सुख की प्राप्ति के लिए ही हमने जीवन को निस्सार और संसार को अनित्य कहकर अपने मन को शांत करने की चेष्टा की है। जब जीवन में कोई सार ही नहीं और संसार अनित्य है, तो फिर क्यों न इनसे मुँह मोड़कर बैठे ? लेकिन हम क्यों दुःखी होते हैं, वह कौन - सी मनोवृत्ति है जो हमें दुःख की ओर ले जाती है, उस पर हमने विचार नहीं किया है।

SubQuestion No : 22

Q.22 उपरोक्त अवतरण का सारांश चुनिए।

- Ans A. जीवन में सुख भोगकर अगली पीढ़ी के लिए भी मनुष्य धन - संपत्ति, जमीन - जायदाद संचय करना चाहता है और उसे ही सर्वस्व मानता है।
- B. मनुष्य की सोच है कि संसार परिवर्तनशील है। इस अस्थायी जीवन में सुख - शांति प्राप्ति के लिए केवल विलासपूर्ण जिंदगी बितानी है।
- C. जीवन का इहलौकिक और पारलौकिक उद्देश्य है - सुख की प्राप्ति। दुःख से दूर रहने के लिए वह स्वर्ग, मोक्ष की कल्पना करता है।
- D. मनुष्य का जीवन दुःखपूर्ण है। अतः वह दुःख से घबराकर सुख की प्राप्ति के लिए इधर - उधर भटकता है पर अंत में उसे कुछ नहीं मिलता, मृत्यु के सिवा।

Question ID : 630680179369

Status : Answered

Chosen Option : C

Comprehension:

नीचे दिए गये गद्य को पढ़ें और पुछे गये प्रश्नों के उत्तर दें:

मनुष्य सुख की खोज आदि काल से कर रहा है और इसी की प्राप्ति उसके जीवन का मुख्य उद्देश्य रहा है। दुःख से वह इतना घबराता है कि इस जीवन में ही नहीं, आने वाले जीवन में ऐसी व्यवस्था करना चाहता है कि वहाँ भी सुख का उपयोग कर सके। जन्त और स्वर्ग, मोक्ष और नवनिर्माण सब उसी आकांक्षा की रचनाएँ हैं। सुख की प्राप्ति के लिए ही हमने जीवन को निस्सार और संसार को अनित्य कहकर अपने मन को शांत करने की चेष्टा की है। जब जीवन में कोई सार ही नहीं और संसार अनित्य है, तो फिर क्यों न इनसे मुँह मोड़कर बैठे ? लेकिन हम क्यों दुःखी होते हैं, वह कौन - सी मनोवृत्ति है जो हमें दुःख की ओर ले जाती है, उस पर हमने विचार नहीं किया है।

SubQuestion No : 23

Q.23 इस अवतरण के लिए उचित शीर्षक चुनिए।

- Ans A. मनुष्य और जीवन
- B. जीवन का महत्व
- C. मनुष्य और सुख - दुःख
- D. अनित्य संसार

Question ID : 630680179370

Status : Answered

Chosen Option : A

Comprehension:

नीचे दिए गये गद्य को पढ़ें और पूछे गये प्रश्नों के उत्तर दें:

मनुष्य सुख की खोज आदि काल से कर रहा है और इसी की प्राप्ति उसके जीवन का मुख्य उद्देश्य रहा है। दुःख से वह इतना घबराता है कि इस जीवन में ही नहीं, आने वाले जीवन में ऐसी व्यवस्था करना चाहता है कि वहाँ भी सुख का उपयोग कर सके। जन्तु और स्वर्ग, मोक्ष और नवनिर्माण सब उसी आकांक्षा की रचनाएँ हैं। सुख की प्राप्ति के लिए ही हमने जीवन को निस्सार और संसार को अनित्य कहकर अपने मन को शांत करने की चेष्टा की है। जब जीवन में कोई सार ही नहीं और संसार अनित्य है, तो फिर क्यों न इनसे मुँह मोड़कर बैठें ? लेकिन हम क्यों दुःखी होते हैं, वह कौन – सी मनोवृत्ति है जो हमें दुःख की ओर ले जाती है, उस पर हमने विचार नहीं किया है।

SubQuestion No : 24

Q.24 **जीवन को मूल्यहीन मानकर हम क्या करना चाहते हैं ?**

- Ans
- A. जीवन को मूल्यहीन मानकर हम सुख भोगना नहीं चाहते हैं।
 - B. दुःख को जीवन मानकर सुख से हम मुँह मोड़ लेते हैं।
 - C. जीवन को मूल्यहीन मानकर हम अपने मन को शांत करना चाहते हैं।
 - D. जीवन को मूल्यहीन मानकर हम सुख भोग करना चाहते हैं।

Question ID : 630680179367

Status : Answered

Chosen Option : C

Comprehension:

नीचे दिए गये गद्य को पढ़ें और पूछे गये प्रश्नों के उत्तर दें:

मनुष्य सुख की खोज आदि काल से कर रहा है और इसी की प्राप्ति उसके जीवन का मुख्य उद्देश्य रहा है। दुःख से वह इतना घबराता है कि इस जीवन में ही नहीं, आने वाले जीवन में ऐसी व्यवस्था करना चाहता है कि वहाँ भी सुख का उपयोग कर सके। जन्तु और स्वर्ग, मोक्ष और नवनिर्माण सब उसी आकांक्षा की रचनाएँ हैं। सुख की प्राप्ति के लिए ही हमने जीवन को निस्सार और संसार को अनित्य कहकर अपने मन को शांत करने की चेष्टा की है। जब जीवन में कोई सार ही नहीं और संसार अनित्य है, तो फिर क्यों न इनसे मुँह मोड़कर बैठें ? लेकिन हम क्यों दुःखी होते हैं, वह कौन – सी मनोवृत्ति है जो हमें दुःख की ओर ले जाती है, उस पर हमने विचार नहीं किया है।

SubQuestion No : 25

Q.25 **मनुष्य के जीवन का मुख्य उद्देश्य क्या है ?**

- Ans
- A. बिना परिश्रम से सुख के शिखर तक पहुँचने का प्रयास।
 - B. जीवन को उपभोग करने का उद्देश्य।
 - C. सुख की खोज और प्राप्ति।
 - D. दुःख से घबराकर सुख के लिए चेष्टा।

Question ID : 630680179366

Status : Answered

Chosen Option : C

Section : English Language

Q.1 **Select the option that can be used as a one-word substitute for the given group of words.**
A strong compulsion to steal

- Ans
- A. Megalomania
 - B. Kleptomania
 - C. Stealomania
 - D. Bibliomania

Question ID : 630680179478

Status : Not Answered

Chosen Option : --

Q.2 Select the most appropriate option that can substitute the underlined segment in the given sentence. If there is no need to substitute it, select 'No substitution required'.
Criticism is an indispensable part of our lives.

- Ans
- A. adamant
 - B. urgent
 - C. unnecessary
 - D. No substitution required

Question ID : 630680184799
Status : Not Answered
Chosen Option : --

Q.3 Select the most appropriate option that can substitute the underlined segment in the given sentence. If there is no need to substitute it, select 'No substitution required'.
To Gandhiji separate electorates were disgust because they promoted communalism and division.

- Ans
- A. no substitution required
 - B. antipathy
 - C. aversion
 - D. anathema

Question ID : 630680184802
Status : Not Answered
Chosen Option : --

Q.4 Parts of a sentence are given below in jumbled order. Arrange the parts in the correct order to form a meaningful sentence.

- A.in the ruin of the towns and cities
- B.for their manufacture
- C.the ruin of Indian handicrafts was reflected
- D.which were famous

- Ans
- A. BCDA
 - B. ADCB
 - C. CBDA
 - D. CADB

Question ID : 630680184786
Status : Not Answered
Chosen Option : --

Q.5 Select the most appropriate ANTONYM of the given word.
Prudence

- Ans
- A. Recklessness
 - B. Dishonesty
 - C. Snootiness
 - D. Wisdom

Question ID : 630680179443
Status : Not Answered
Chosen Option : --

Q.6 Select the most appropriate meaning of the given idiom.
Jump on the bandwagon

- Ans
- A. Play all musical instruments well
 - B. Be active and alert always
 - C. Ask anyone for a favour
 - D. Mechanically join a new trend or fashion

Question ID : 630680184771
Status : Not Answered
Chosen Option : --

Q.7 Select the most appropriate option to fill in the blank.
He has Saturdays off once _____ month.

- Ans
- A. an
 - B. the
 - C. a
 - D. no word

Question ID : 630680184830
Status : Not Answered
Chosen Option : --

Q.8 Parts of a sentence are given below in jumbled order. Arrange the parts in the correct order to form a meaningful sentence.

- A. my most interesting visitor comes at night,
- B. when the lights are still burning
- C. a tiny bat who prefers to fly in through the open door and
- D. will use the window only if there is no alternative

- Ans
- A. ACDB
 - B. CBDA
 - C. ABCD
 - D. DCAB

INDIA

Question ID : 630680184790
Status : Not Answered
Chosen Option : --

Q.9 Select the most appropriate option to fill in the blank.
The butterfly _____ in through the open window and is sitting on the flowers in the vase.

- Ans
- A. flew
 - B. fly
 - C. has flew
 - D. flying

Question ID : 630680184833
Status : Not Answered
Chosen Option : --

Q.10 Parts of a sentence are given below in jumbled order. Arrange the parts in the correct order to form a meaningful sentence.

- A.to replace workers
- B.employers are keen
- C.with machines despite
- D.the abundance of labour force

Ans A. BDCA

B. BACD

C. DCBA

D. ADBC

Question ID : 630680184791

Status : Not Answered

Chosen Option : --

Q.11 Select the most appropriate option to fill in the blanks.
How many guests _____ you _____ to today's party?

Ans A. are, invited

B. had, invited

C. did, invite

D. have, invite

Question ID : 630680184838

Status : Not Answered

Chosen Option : --

Q.12 Parts of the following sentence have been given as options. Select the option that contains a spelling error. If there is no error, select 'No error'.
Emigrashion is one of the forces behind the march of mankind, which is fortunate to have people who act as cultural bridges.

Ans A. to have people who act as cultural bridges

B. the march of mankind which is fortunate

C. No error

D. Emigrashion is one of the forces behind

Question ID : 630680184782

Status : Not Answered

Chosen Option : --

Q.13 Select the most appropriate option that can substitute the underlined segment in the given sentence. If there is no need to substitute it, select 'No substitution required'.
Only when merit is recognised at all levels without any biases can India hope to become a global power.

Ans A. likings

B. fancies

C. conclusions

D. no substitution required

Question ID : 630680184811

Status : Not Answered

Chosen Option : --

Q.14 Select the most appropriate synonym of the given word.
Garrulous

- Ans A. Talkative
 B. Genuine
 C. Reserved
 D. Guarded

Question ID : 630680184766
Status : Not Answered
Chosen Option : --

Q.15 Select the most appropriate option to fill in the blank.
Kavita is staying back at _____ same hospital where her mother is admitted.

- Ans A. a
 B. one
 C. the
 D. an

Question ID : 630680184827
Status : Not Answered
Chosen Option : --

Q.16 Select the correct spelling of the word underlined in the given sentence.
They think that they have provyded against everything.

- Ans A. Provydid
 B. Providid
 C. Provided
 D. Proovyded

INDIA

Question ID : 630680177343
Status : Not Answered
Chosen Option : --

Q.17 Select the most appropriate option to fill in the blank.
We have worked for six days now; it has been an extremely _____ week for me.

- Ans A. exhaustive
 B. exhausting
 C. exhaust
 D. exhausted

Question ID : 630680184818
Status : Not Answered
Chosen Option : --

Q.18 Select the most appropriate option that can substitute the underlined segment in the given sentence. If there is no need to substitute it, select 'No substitution required'.
The capitalist system of society does not disturb healthy relations among human beings.

- Ans
- A. dissuade
 - B. adopt
 - C. foster
 - D. no substitution required

Question ID : 630680184814
Status : Not Answered
Chosen Option : --

Q.19 Select the most appropriate option to fill in the blank.
Was Sudhir there _____ the launch of the new pavilion?

- Ans
- A. for
 - B. from
 - C. on
 - D. by

Question ID : 630680184822
Status : Not Answered
Chosen Option : --

Q.20 Select the most appropriate meaning of the given proverb.
Blood is thicker than water

- Ans
- A. Water is chemically the thinnest liquid
 - B. Early friendships remain the best
 - C. Family relationships are the strongest
 - D. Clean a bleeding wound with water

Question ID : 630680184774
Status : Not Answered
Chosen Option : --

Comprehension:

Read the given passage and answer the questions that follow.

About 76,000 years ago, a massive Toba-volcanic eruption took place in Indonesia in which sulfuric acid rained over the earth and about 3000 kilometres of land was covered with magma. Indian land was also showered by volcanic ash, which remains deposited on the ground even today.

Contrary to all prior logics, in January 2018, stone tools were found in southern and northern parts of India, both below and above the ash. These tools were quite like the ones which humans created in Africa. Thus, it became clear that homo sapiens lived on Indian land even before that volcanic eruption. The findings also gave an idea that the super-eruption led to a massive environmental destruction and many people would have lost their lives.

The team comprising of scientists from India and Germany discovered fossil of an extinct marine reptile in the Kutch desert, Gujarat, in October 2017. They identified the specimen with Ophthalmosauridae, a family of ichthyosaurs which lived in the oceans between 165 and 90 million years ago. The fossil was found inside rocks from the Mesozoic Era, marking a Jurassic record in India and proving some sort of biological connectivity of India with the other continents of Jurassic world. It gives us a nudge that a lot more could be discovered here from that thrilling era.

SubQuestion No : 21

Q.21 Which of the following is NOT true according to the passage?

- Ans
- A. Any volcanic eruption covers only several kilometres of land in the vicinity.
 - B. Stone tools provide proof of human inhabitation much before the volcanic movement began.
 - C. Slight indications of archaeological evidence spark interest in excavation sites across continents.
 - D. Fossils are found after excavation in ancient debris or rocks in areas identified by scientists.

Question ID : 630680184862

Status : Not Answered

Chosen Option : --

Comprehension:

Read the given passage and answer the questions that follow.

About 76,000 years ago, a massive Toba-volcanic eruption took place in Indonesia in which sulfuric acid rained over the earth and about 3000 kilometres of land was covered with magma. Indian land was also showered by volcanic ash, which remains deposited on the ground even today.

Contrary to all prior logics, in January 2018, stone tools were found in southern and northern parts of India, both below and above the ash. These tools were quite like the ones which humans created in Africa. Thus, it became clear that homo sapiens lived on Indian land even before that volcanic eruption. The findings also gave an idea that the super-eruption led to a massive environmental destruction and many people would have lost their lives.

The team comprising of scientists from India and Germany discovered fossil of an extinct marine reptile in the Kutch desert, Gujarat, in October 2017. They identified the specimen with Ophthalmosauridae, a family of ichthyosaurs which lived in the oceans between 165 and 90 million years ago. The fossil was found inside rocks from the Mesozoic Era, marking a Jurassic record in India and proving some sort of biological connectivity of India with the other continents of Jurassic world. It gives us a nudge that a lot more could be discovered here from that thrilling era.

SubQuestion No : 22

Q.22 The volcanic eruption took place:

- Ans
- A. 165 million years ago
 - B. 3 million years ago
 - C. 76 million years ago
 - D. 90 million years ago

Question ID : 630680184860

Status : Not Answered

Chosen Option : --

Comprehension:

Read the given passage and answer the questions that follow.

About 76,000 years ago, a massive Toba-volcanic eruption took place in Indonesia in which sulfuric acid rained over the earth and about 3000 kilometres of land was covered with magma. Indian land was also showered by volcanic ash, which remains deposited on the ground even today.

Contrary to all prior logics, in January 2018, stone tools were found in southern and northern parts of India, both below and above the ash. These tools were quite like the ones which humans created in Africa. Thus, it became clear that homo sapiens lived on Indian land even before that volcanic eruption. The findings also gave an idea that the super-eruption led to a massive environmental destruction and many people would have lost their lives.

The team comprising of scientists from India and Germany discovered fossil of an extinct marine reptile in the Kutch desert, Gujarat, in October 2017. They identified the specimen with Ophthalmosauridae, a family of ichthyosaurs which lived in the oceans between 165 and 90 million years ago. The fossil was found inside rocks from the Mesozoic Era, marking a Jurassic record in India and proving some sort of biological connectivity of India with the other continents of Jurassic world. It gives us a nudge that a lot more could be discovered here from that thrilling era.

SubQuestion No : 23

Q.23 The central theme of the passage is:

- Ans A. the discovery of a remains of an extinct marine reptile
- B. the volcanic ash that covered parts of India
- C. the causes of a volcanic eruption in Indonesia
- D. the connections between India and Africa

Question ID : 630680184859

Status : Not Answered

Chosen Option : --

Comprehension:

Read the given passage and answer the questions that follow.

About 76,000 years ago, a massive Toba-volcanic eruption took place in Indonesia in which sulfuric acid rained over the earth and about 3000 kilometres of land was covered with magma. Indian land was also showered by volcanic ash, which remains deposited on the ground even today.

Contrary to all prior logics, in January 2018, stone tools were found in southern and northern parts of India, both below and above the ash. These tools were quite like the ones which humans created in Africa. Thus, it became clear that homo sapiens lived on Indian land even before that volcanic eruption. The findings also gave an idea that the super-eruption led to a massive environmental destruction and many people would have lost their lives.

The team comprising of scientists from India and Germany discovered fossil of an extinct marine reptile in the Kutch desert, Gujarat, in October 2017. They identified the specimen with Ophthalmosauridae, a family of ichthyosaurs which lived in the oceans between 165 and 90 million years ago. The fossil was found inside rocks from the Mesozoic Era, marking a Jurassic record in India and proving some sort of biological connectivity of India with the other continents of Jurassic world. It gives us a nudge that a lot more could be discovered here from that thrilling era.

SubQuestion No : 24

Q.24 The word 'extinct' as used in the passage CANNOT be replaced by the word:

- Ans A. defunct
- B. redundant
- C. vanished
- D. non-existent

Question ID : 630680184863

Status : Not Answered

Chosen Option : --

Comprehension:

Read the given passage and answer the questions that follow.

About 76,000 years ago, a massive Toba-volcanic eruption took place in Indonesia in which sulfuric acid rained over the earth and about 3000 kilometres of land was covered with magma. Indian land was also showered by volcanic ash, which remains deposited on the ground even today.

Contrary to all prior logics, in January 2018, stone tools were found in southern and northern parts of India, both below and above the ash. These tools were quite like the ones which humans created in Africa. Thus, it became clear that homo sapiens lived on Indian land even before that volcanic eruption. The findings also gave an idea that the super-eruption led to a massive environmental destruction and many people would have lost their lives.

The team comprising of scientists from India and Germany discovered fossil of an extinct marine reptile in the Kutch desert, Gujarat, in October 2017. They identified the specimen with Ophthalmosauridae, a family of ichthyosaurs which lived in the oceans between 165 and 90 million years ago. The fossil was found inside rocks from the Mesozoic Era, marking a Jurassic record in India and proving some sort of biological connectivity of India with the other continents of Jurassic world. It gives us a nudge that a lot more could be discovered here from that thrilling era.

SubQuestion No : 25

Q.25 Which of the following is the most appropriate summary of the passage?

- Ans** A. A team of scientists made unusual revelations about a sulfuric ash covering parts of India. Stone tools were found above and below the ash giving indications of life resembling that in Africa. Further, they also found the fossil of an ichthyosaur, probably of the Jurassic period.
- B. A team comprising scientists from India and Germany discovered the fossil of an extinct marine reptile in the Kutch desert, Gujarat, in October 2017. They identified the specimen as an ichthyosaur.
- C. A fossil was found under the volcanic ash that was dispersed over southern and northern parts of India. Many lives were lost in the volcanic super-eruption which led to a massive environmental destruction.
- D. Many fossils were found under the volcanic ash that was dispersed over southern and northern parts of India. The eruption had caused massive environmental destruction but scientists were excited by the discovery of the extinct marine reptile in the Kutch desert, Gujarat.

Question ID : 630680184861

Status : Not Answered

Chosen Option : --

Section : General Aptitude

Q.1 शरत कमल को वर्ष 2022 के लिए _____ से सम्मानित किया गया।

- Ans** A. मेजर ध्यानचंद खेल रत्न पुरस्कार
- B. अर्जुन पुरस्कार
- C. द्रोणाचार्य पुरस्कार
- D. राष्ट्रीय खेल प्रोत्साहन पुरस्कार

Question ID : 630680182865

Status : Answered

Chosen Option : A

Q.2 1919 में अंग्रेजों द्वारा पारित रौलट एक्ट को, महात्मा गांधी द्वारा _____ कानून कहा गया था।

- Ans A. अंधा
 B. काला
 C. स्लेटी
 D. श्याह

Question ID : 630680182872
Status : Answered
Chosen Option : B

Q.3 विश्व बैंक के अनुमानों से यह ज्ञात होता है कि, 2020 और 2040 के बीच, भारत में _____ वर्ष की आयु वाली जनसंख्या में 134.6 मिलियन की वृद्धि होने की उम्मीद है।

- Ans A. 18 से 60
 B. 15 से 59
 C. 25 से 75
 D. 21 से 65

Question ID : 630680182854
Status : Answered
Chosen Option : B

Q.4 REN21 नवीकरणीय 2022 वैश्विक स्थिति रिपोर्ट (REN21 Renewables 2022 Global Status Report) के अनुसार अक्षय ऊर्जा की स्थापित क्षमता में भारत का स्थान विश्व में _____ है।

- Ans A. दूसरा
 B. चौथा
 C. पहला
 D. तीसरा



INDIA

Question ID : 630680182920
Status : Answered
Chosen Option : B

Q.5 निम्नलिखित में से कौन-सी पूंजीगत प्राप्तियों का एक मुख्य मद नहीं है?

- Ans A. सरकार द्वारा लिए गए कर्ज पर ब्याज भुगतान
 B. उधार और अन्य देनदारियां
 C. ऋणों की वसूली
 D. अन्य प्राप्तियां, मुख्य रूप से PSU1 विनिवेश से

Question ID : 630680182895
Status : Answered
Chosen Option : A

Q.6 बैंकों के संबंध में RDR का पूर्ण रूप क्या है?

- Ans
- A. Revenue Deposit Ratio (रेवेन्यू डिपॉजिट रेशियो)
 - B. Reserve Development Ratio (रिज़र्व डेवलपमेंट रेशियो)
 - C. Reserve Deposit Ratio (रिज़र्व डिपॉजिट रेशियो)
 - D. Revenue Development Ratio (रेवेन्यू डेवलपमेंट रेशियो)

Question ID : 630680182900

Status : Answered

Chosen Option : B

Q.7 राज्यों और जिलों के लिए 'सामाजिक प्रगति सूचकांक' के हिस्से के रूप में साझा किए गए डेटा विश्लेषण से पता चला है कि भारत के 313 जिलों में, 20-24 वर्ष की _____ से अधिक महिलाओं का विवाह 18 वर्ष, जो कि देश में विवाह के लिए निर्धारित विधिक आयु है, की आयु से पहले हुई थी।

- Ans
- A. 25%
 - B. 15%
 - C. 30%
 - D. 20%

Question ID : 630680177496

Status : Not Answered

Chosen Option : --

Q.8 भारतीय रिज़र्व बैंक का निम्नलिखित में से कौन सा कार्य नहीं है?

- Ans
- A. यह अर्थव्यवस्था के विदेशी मुद्रा भंडार का संरक्षक होता है।
 - B. यह इच्छुक व्यक्तियों को ऋण प्रदान करता है।
 - C. यह विभिन्न तरीकों से देश की मुद्रा आपूर्ति को नियंत्रित करता है।
 - D. यह सरकार के बैंकर के रूप में कार्य करता है।

Question ID : 630680182903

Status : Answered

Chosen Option : B

Q.9 निम्नलिखित में से किस अनुच्छेद में चर्चा की गई है, कि किसी भी व्यक्ति को विधि द्वारा स्थापित प्रक्रिया के अतिरिक्त उसके जीवन या व्यक्तिगत स्वतंत्रता से वंचित नहीं किया जा सकता है?

- Ans
- A. अनुच्छेद 20
 - B. अनुच्छेद 21
 - C. अनुच्छेद 18
 - D. अनुच्छेद 22

Question ID : 630680179727

Status : Answered

Chosen Option : B

Q.10 कशेरुकियों के संबंध में निम्नलिखित में से कौन सा/से कथन सही/गलत है/हैं?

- i. सभी कशेरुकी रज्जुकी होते हैं, लेकिन सभी रज्जुकी कशेरुकी नहीं होते हैं।
ii. कशेरुकियों में दो, तीन या चार कक्षों वाला एक अभ्युदर मांसल हृदय होता है।

- Ans A. विकल्प i और विकल्प ii दोनों गलत हैं।
 B. विकल्प i और विकल्प ii दोनों सही हैं।
 C. केवल विकल्प ii सही है।
 D. केवल विकल्प i सही है।

Question ID : 630680182924

Status : Answered

Chosen Option : B

Q.11 भारत छोड़ो आंदोलन किस वर्ष में किया गया था?

- Ans A. 1940
 B. 1941
 C. 1942
 D. 1943

Question ID : 630680182876

Status : Answered

Chosen Option : C

Q.12 2022 में 'विकसित राष्ट्र के लिए भ्रष्टाचार मुक्त भारत (Corruption-free India for a Developed Nation)' की थीम के साथ सतर्कता जागरूकता सप्ताह कब मनाया गया था?

- Ans A. 10 दिसंबर से 16 दिसंबर तक
 B. 31 अक्टूबर से 6 नवंबर तक
 C. 10 अक्टूबर से 16 नवंबर तक
 D. 30 नवंबर से 6 दिसंबर तक

INDIA

Question ID : 630680177440

Status : Answered

Chosen Option : A

Q.13 निम्नलिखित में से कौन सा/से सही/गलत है/हैं?

- i. तराना ऐसे गीत हैं जिनका उपयोग खुशी की भावना व्यक्त करने के लिए और सामान्यतः एक संगीत कार्यक्रम की शुरुआत में किया जाता है।
ii. तुमरी हिंदुस्तानी शास्त्रीय संगीत का एक अनौपचारिक मुखर रूप है और ऐसा कहा जाता है कि इसकी शुरुआत अवध के नवाब वाजिद अली शाह के दरबार से हुई थी।

- Ans A. केवल विकल्प ii सही है।
 B. विकल्प i और विकल्प ii दोनों सही हैं।
 C. केवल विकल्प i सही है।
 D. विकल्प i और विकल्प ii दोनों गलत हैं।

Question ID : 630680182891

Status : Answered

Chosen Option : C

Q.14 राष्ट्रीय सांख्यिकी कार्यालय के 16वें आवधिक श्रम बल सर्वेक्षण के आंकड़ों से पता चला है कि, जुलाई-सितंबर 2022 में शहरी क्षेत्रों की (15 वर्ष और उससे अधिक आयु की) भारतीय महिलाओं में बेरोजगारी दर घटकर _____ हो गई है।

- Ans
- A. 10.4%
 - B. 8.4%
 - C. 11.4%
 - D. 9.4%

Question ID : 630680182858

Status : Not Answered

Chosen Option : --

Q.15 हुमायूँ के आकस्मिक निधन के बाद 1556 ई. में अकबर के सिंहासन पर बैठने के समय उनका संरक्षक कौन था?

- Ans
- A. मुअज्जम खान (Muazzam Khan)
 - B. अब्दुल रहीम खान-ए-खाना (Abdul Rahim Khan-I-Khana)
 - C. जमन खान (Zaman Khan)
 - D. बैरम खान (Bairam Khan)

Question ID : 630680177451

Status : Answered

Chosen Option : D

Q.16 हड़प्पा सभ्यता के विशाल स्नानागार के संबंध में निम्नलिखित में से कौन सा कथन सही नहीं है?

- Ans
- A. विशाल स्नानागार, एक प्रांगण में एक बड़ी आयताकार टंकी थी, जो चारों तरफ से एक गलियारे से घिरी हुई थी।
 - B. तीनों तरफ कमरे थे, जिनमें से प्रत्येक में एक बड़ा कुआँ था।
 - C. गढ़ दर्शाता है कि यह किसी प्रकार के विशेष अनुष्ठान से सम्बंधित स्नान के लिए था।
 - D. उत्तर और दक्षिण में टंकी तक जाने वाली दो सीढ़ियाँ थीं, टंकी को उसके किनारे पर ईंटें लगाकर और जिप्सम के गारे का उपयोग करके जलरोधी बनाया गया था।

Question ID : 630680182881

Status : Answered

Chosen Option : B

Q.17 जेम्स प्रेस्कॉट जूल के बारे में निम्नलिखित में से कौन सा कथन सही नहीं है?

- Ans
- A. उन्हें बिजली और ऊष्मप्रवैगिकी में अपने शोध के लिए जाना जाता है।
 - B. उन्होंने विद्युत धारा के तापीय प्रभाव के लिए एक नियम प्रतिपादित किया था।
 - C. जेम्स प्रेस्कॉट जूल एक उत्कृष्ट जर्मन भौतिक विज्ञानी थे।
 - D. उनके नाम पर ऊर्जा और कार्य की इकाई जूल कहलाती है।

Question ID : 630680182933

Status : Answered

Chosen Option : A

Q.18 राष्ट्रीय कथक नृत्य संस्थान, कथक केंद्र, भारत के किस भाग में स्थित है?

- Ans A. नई दिल्ली
 B. कर्नाटक
 C. तमिलनाडु
 D. आंध्र प्रदेश

Question ID : 630680179680
Status : Answered
Chosen Option : A

Q.19 गुरुत्वाकर्षण बल के संबंध में निम्नलिखित में से कौन सा कथन सही नहीं है?

- Ans A. पृथ्वी के ऊपर की सभी वस्तुएँ पृथ्वी के कारण गुरुत्वाकर्षण बल का अनुभव करती हैं।
 B. गुरुत्वाकर्षण, पृथ्वी के चारों ओर चंद्रमा और कृत्रिम उपग्रहों की गति, पृथ्वी की गति और सूर्य के चारों ओर के ग्रहों की गति, और निश्चित रूप से, पृथ्वी पर गिरने वाले पिंडों की गति को नियंत्रित करता है।
 C. सितारों, आकाशगंगाओं और मंदाकिनीय गुच्छों के गठन और विकास जैसी ब्रह्मांड की बड़े पैमाने की घटनाओं में गुरुत्वाकर्षण की कोई भूमिका नहीं है।
 D. गुरुत्वाकर्षण बल, किन्हीं दो वस्तुओं के द्रव्यमानों के आधार पर उनके बीच के परस्पर आकर्षण का बल होता है।

Question ID : 630680182927
Status : Answered
Chosen Option : C

Q.20 निम्नलिखित में से कौन सा न्यायालय मौलिक अधिकारों को बहाल करने के लिए रिट जारी कर सकता है?

- Ans A. उपभोक्ता न्यायालय
 B. जिला अदालत
 C. सर्वोच्च न्यायालय और उच्च न्यायालय
 D. अधीनस्थ न्यायालय

Question ID : 630680182946
Status : Answered
Chosen Option : C

Q.21 जब स्वरों का उच्चारण अवरोही क्रम में किया जाता है, तो इसे _____ के रूप में जाना जाता है।

- Ans A. संचारी वर्ण
 B. अवरोही वर्ण
 C. स्थायी वर्ण
 D. आरोही वर्ण

Question ID : 630680179684
Status : Answered
Chosen Option : B

Q.22 2022 में प्रभु चंद्र मिश्रा को निम्नलिखित में से किस पुरस्कार/अधिछात्रवृत्ति से सम्मानित किया गया?

- Ans A. सस्त्र (SASTRA) रामानुजन पुरस्कार
 B. सस्त्र (SASTRA) सी. एन. आर. राव पुरस्कार
 C. स्वर्णजयंती अधिछात्रवृत्ति
 D. अटल सम्मान पुरस्कार

Question ID : 630680182847
Status : Not Answered
Chosen Option : --

Q.23 आंध्र प्रदेश में प्रसिद्ध अभिनेता (मैटिनी आइडल) एनटी रामाराव (NTR) द्वारा तेलुगु देशम पार्टी (TDP) की स्थापना किस वर्ष की गई थी?

- Ans A. 1984
 B. 1981
 C. 1983
 D. 1982

Question ID : 630680177520
Status : Not Answered
Chosen Option : --

Q.24 गुजरात और राजस्थान दोनों में _____ स्रोत बड़ी मात्रा में पाए जाते हैं।

- Ans A. एल्युमीनियम
 B. लौह
 C. कोयला
 D. नमक



INDIA

Question ID : 630680182909
Status : Answered
Chosen Option : B

Q.25 पूर्वी जेट धारा को उपोष्णकटिबंधीय पूर्वी जेट धारा कहा जाता है, जो प्रायद्वीपीय भारत में गर्मियों के महीनों के दौरान लगभग _____ के ऊपर बहती है।

- Ans A. 14°N
 B. 12°N
 C. 18°N
 D. 16°N

Question ID : 630680182913
Status : Not Answered
Chosen Option : --

Section : General Intelligence

Q.1 दिए गए विकल्पों में से उस संख्या का चयन करें, जो निम्नलिखित समीकरण में प्रश्नवाचक चिन्ह (?) को प्रतिस्थापित कर सकती है।

$$167.89 \div 41.79 \times 78.87 - 127.17 + 43.69 = ?$$

- Ans
- A. 323
 - B. 342
 - C. 233
 - D. 332

Question ID : 630680177654

Status : Answered

Chosen Option : C

Q.2 नीचे दिए गये अक्षर-अनुक्रम से एक अर्थपूर्ण शब्द बनाने के लिए, उसमें कौन-सा अक्षर कम पड़ रहा है?
S, I, P, T, E, E

- Ans
- A. D
 - B. F
 - C. G
 - D. L

Question ID : 630680176447

Status : Answered

Chosen Option : C

Q.3 100 पर्यटकों की एक पंक्ति में, टिकट काउंटर के सामने उत्तर की ओर अभिमुख होकर एक सीधी पंक्ति में खड़े अर्जुन का स्थान दाएं छोर से 30वां है, जबकि पुनीत का स्थान बाएं छोर से 20वां है। अर्जुन और पुनीत के बीच कितने विद्यार्थी खड़े हैं?

- Ans
- A. 49
 - B. 48
 - C. 50
 - D. 51

Question ID : 630680182744

Status : Answered

Chosen Option : A

Q.4 छह जोकर जिनके नाम के पहले अक्षर A, B, C, D, E और F हैं, एक गोल मेज के परितः इसके केंद्र की ओर अभिमुख होकर एक दूसरे से समान दूरी पर बैठे हैं, लेकिन आवश्यक नहीं है कि वे इसी क्रम में हों।

A, D के ठीक बाएं पड़ोस में बैठा है। C, B के दाएं से दूसरे स्थान पर बैठा है। D, F के ठीक बाएं पड़ोस में बैठा है। E, A के बाएं से दूसरे स्थान पर बैठा है। F, B के ठीक बाएं पड़ोस में बैठा है। C के ठीक बाएं पड़ोस में कौन बैठा है?

- Ans
- A. B
 - B. A
 - C. E
 - D. D

Question ID : 630680182737

Status : Answered

Chosen Option : C

Q.5 दिए गए विकल्पों में से उस अक्षर का चयन करें जो निम्नलिखित श्रृंखला में प्रश्न चिह्न (?) को प्रतिस्थापित करेगा।

O, S, S, O, W, K, ?

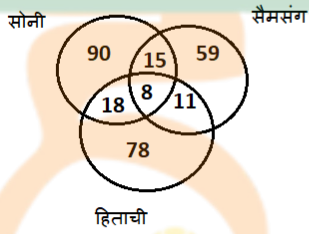
- Ans A. G
 B. A
 C. Z
 D. H

Question ID : 630680182760

Status : Answered

Chosen Option : B

Q.6 दिए गए आरेख का ध्यानपूर्वक अध्ययन कीजिए और नीचे दिए गए प्रश्नों के उत्तर दीजिए। अलग-अलग खण्डों में दी गई संख्याएं एक शहर में इलेक्ट्रॉनिक सामानों के विभिन्न ब्रांड वाले घरों की संख्या को दर्शाती हैं।



कितने घरों में केवल सैमसंग के इलेक्ट्रॉनिक सामान हैं?

- Ans A. 95
 B. 59
 C. 70
 D. 93

Question ID : 630680182753

Status : Answered

Chosen Option : B

Q.7 यदि \times का अर्थ $-$, $+$ का अर्थ $+$, \div का अर्थ $+$ और $-$ का अर्थ \times है, तो निम्नलिखित में से कौन-सा समीकरण सही है?

- Ans A. $95 + 19 \div 65 = 16 - 18 \times 218$
 B. $37 \times 46 \div 46 + 17 - 49 = 201$
 C. $314 + 156 \div 45 = 137 \times 45 - 31$
 D. $65 \div 45 + 17 = 76 \times 12 - 34$

Question ID : 630680177659

Status : Answered

Chosen Option : A

Q.8 P, Q, R, S, T, U और V में से प्रत्येक का एक सप्ताह के अलग-अलग दिनों में एक साक्षात्कार होता है, जो कि सोमवार से शुरू होकर उसी सप्ताह के रविवार को समाप्त होता है।

P का साक्षात्कार गुरुवार को है। Q से पहले केवल दो व्यक्तियों का साक्षात्कार है। R का साक्षात्कार शुक्रवार को नहीं है। V का साक्षात्कार S के साक्षात्कार से ठीक पहले है। U और R के साक्षात्कार के बीच केवल एक व्यक्ति का साक्षात्कार होता है। S का साक्षात्कार सप्ताह के किस दिन होता है?

- Ans
- A. रविवार
 - B. मंगलवार
 - C. शुक्रवार
 - D. शनिवार

Question ID : 630680182748

Status : Answered

Chosen Option : B

Q.9 चार अक्षर-समूह दिए गए हैं, जिनमें से तीन किसी प्रकार से एकसमान हैं और एक असंगत है। उस असंगत अक्षर-समूह का चयन करें।

- Ans
- A. BEHK
 - B. MPSV
 - C. QTAZ
 - D. WZCF

Question ID : 630680176451

Status : Answered

Chosen Option : C



INDIA

Q.10 यदि

'A & B' का अर्थ है कि 'A, B की माता की माता है',

'A # B' का अर्थ है कि 'A, B की बहन पुत्री है',

'A ^ B' का अर्थ है कि 'A, B के पिता का भाई है',

'A @ B' का अर्थ है कि 'A, B पत्नी है',

'A % B' का अर्थ है कि 'A, B की माता है' और

'A = B' का अर्थ 'B, A का ससुर है',

तो दिए गए व्यंजक में Z का M से क्या संबंध है?

$Z \wedge R \# S @ T = M$

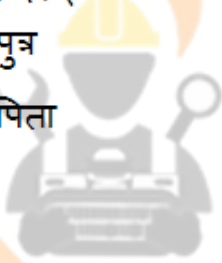
Ans

✓ A. भाई

✗ B. ब्रदर-इन-लॉ

✗ C. पुत्र

✗ D. पिता



Question ID : 630680182780

Status : Answered

Chosen Option : A

Q.11 किसी लिखित कूट भाषा में, SERIAL को IVHRZO के रूप में कूटबद्ध किया जाता है। DETTOL को उसी भाषा में कैसे कूटबद्ध किया जाएगा?

Ans ✗ A. GVWGM0

✓ B. GVWGLO

✗ C. GVUGLO

✗ D. GVWGLM

Question ID : 630680177598

Status : Answered

Chosen Option : B

Q.12 दिए गए विकल्पों में से उस संख्या का चयन करें जो निम्नलिखित श्रृंखला में प्रश्न चिह्न (?) को प्रतिस्थापित कर सकती है।

60, 81, 123, 186, ?

- Ans
- A. 265
 - B. 268
 - C. 270
 - D. 272

Question ID : 630680182819
Status : Answered
Chosen Option : C

Q.13 जब दर्पण को MN पर रखा जाता है, तो दी गई आकृति का दर्पण में निर्मित सही प्रतिबिंब चयनित करें।

PF832N

- Ans
- A. N 2 3 8 7 9
 - B. N 2 3 8 7 9
 - C. N 2 3 8 F 9
 - D. N 2 3 8 F 9

Question ID : 630680176464
Status : Answered
Chosen Option : A

Q.14 दी गई संख्या-प्रतीक श्रृंखला का संदर्भ लें और नीचे दिए गए प्रश्न का उत्तर दें।

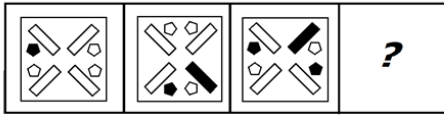
(बायां) % 2 5 1 @ & 2 5 4 0 * @ £ 3 1 & 4 % @ 2 & % 3 % 4 (दायां)

उपरोक्त श्रृंखला में ऐसी कितनी संख्याएँ हैं जिनके ठीक पहले एक प्रतीक है और ठीक बाद में एक संख्या भी है?

- Ans
- A. 3
 - B. 1
 - C. 4
 - D. 2

Question ID : 630680182768
Status : Answered
Chosen Option : A

Q.15 दिए गए विकल्पों में से उस आकृति का चयन करें जो नीचे दी गई श्रृंखला में प्रश्न चिह्न (?) को प्रतिस्थापित कर सकती है।



Ans

A.



B.



C.



D.



Question ID : 630680182803

Status : Answered

Chosen Option : B

Q.16 दीपक, अजय का पिता है। निशा, अजय की बहन है। प्रीति, दीपक की बहन है। विपुल, अजय का पुत्र है। सुप्रिया, अजय की पत्नी है। निशा का सुप्रिया से क्या संबंध है?

Ans

A. पति की माँ (सास)

B. माँ

C. बहन

D. पति की बहन (ननद)

Question ID : 630680182785

Status : Answered

Chosen Option : D

Q.17 दिए गए विकल्पों में से उस संख्या का चयन कीजिए जो निम्नलिखित श्रृंखला में प्रश्न चिह्न (?) को प्रतिस्थापित कर सकती है।
27, 29, 33, 39, 47, ?

- Ans
- A. 50
 - B. 57
 - C. 48
 - D. 49

Question ID : 630680176471

Status : Answered

Chosen Option : B

Q.18 अमित ने अपने घर, जो कि उत्तर की ओर उन्मुख है, साइकिल चलाना शुरू किया। वह सीधे साइकिल चलाता है और 20 km की दूरी तय करता है, फिर बाएं मुड़ता है और 4 km तक साइकिल चलाता है, फिर वह पुनः बाईं ओर मुड़ता है और 20 km तक साइकिल चलाता है और फिर अंत में दाईं ओर मुड़ता है और कैफेटेरिया तक पहुंचने के लिए 6 km तक साइकिल चलाता है। कैफेटेरिया से उसका घर कितनी दूर है?

- Ans
- A. 6 km
 - B. 50 km
 - C. 10 km
 - D. 4 km

Question ID : 630680182777

Status : Answered

Chosen Option : C

Q.19 A, B से छोटा है लेकिन C से बड़ा है। E, D से बड़ा है लेकिन B से छोटा है। C, D से बड़ा है लेकिन A से छोटा है। पाँचों में से कौन सबसे छोटा है?

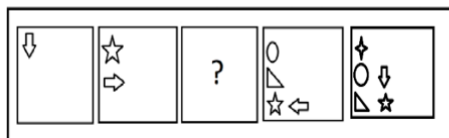
- Ans
- A. E
 - B. C
 - C. A
 - D. D

Question ID : 630680182755

Status : Answered

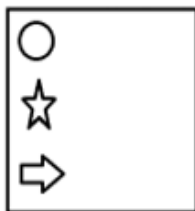
Chosen Option : D

Q.20 दिए गए विकल्पों में से उस आकृति का चयन करें, जो निम्नलिखित श्रृंखला में प्रश्नवाचक चिन्ह (?) को प्रतिस्थापित कर सकती है।

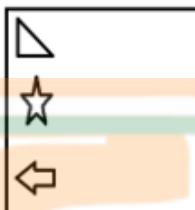


Ans

✗ A.



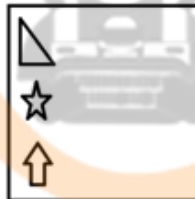
✗ B.



✗ C.



✓ D.



Question ID : 630680177629

Status : Answered

Chosen Option : D

Q.21 निम्नलिखित शब्द के दर्पण निर्मित प्रतिबिंब का चयन करें।

PROWESS

Ans

✗ A. **PROWESS**

✗ B. **PREWORS**

✗ C. **PROWESP**

✓ D. **SEWORS**

Question ID : 630680177636

Status : Answered

Chosen Option : D

Q.22 चार अक्षर-युग्म त्रय दिए गए हैं, जिनमें से तीन किसी प्रकार से एक समान हैं और एक असंगत है। उस अक्षर-युग्म त्रय का चयन करें।

Ans

✗ A. LM - IJ - GH

✗ B. CD - ZA - XY

✓ C. ST - UV - XY

✗ D. AB - XY - VW

INDIA

Question ID : 630680182796

Status : Answered

Chosen Option : C

Q.23 सात खरगोश E, D, C, B, A, Z और Y, एक सीधी पंक्ति में उत्तर की ओर अभिमुख होकर बैठे हैं। A के दोनों ओर केवल तीन-तीन खरगोश बैठे हैं। E और D के बीच केवल Z बैठा है। C और B के बीच केवल Y बैठा है। C, A के ठीक दाएं पड़ोस में बैठा है। पंक्ति के दाएं छोर पर कौन बैठा है?

Ans

✗ A. Y

✓ B. B

✗ C. Z

✗ D. या तो E या D

Question ID : 630680182743

Status : Answered

Chosen Option : B

Q.24 दिए गए विन्यास में ऐसी कितनी संख्याएँ हैं जिनके ठीक पहले एक अक्षर है और ठीक बाद एक संख्या है?
K L @ G 5 4 + G H 1 2 3 + K 22 - G 5 K T @ X ?

- Ans
- A. चार
 - B. तीन
 - C. दो
 - D. एक

Question ID : 630680176423
Status : Answered
Chosen Option : B

Q.25 संख्याओं और प्रतीकों के एक समूह को नीचे दी गई तालिका और उसके बाद आने वाली शर्तों के अनुसार अक्षर कूट का उपयोग करके कूटबद्ध किया जाता है। दिए गए कूट और शर्तों का अध्ययन करें और निम्नलिखित प्रश्न का उत्तर दें।

संख्याएं/प्रतीक	3	2	@	9	#	+	7	*	%	8
अक्षर कूट	L	P	A	F	D	S	R	K	M	Z

शर्तें

- (i) यदि पहला अवयव एक प्रतीक है और अंतिम अवयव एक संख्या है, तो इन दोनों (पहले और अंतिम अवयवों) के कूटों को आपस में बदल दिया जाएगा।
- (ii) यदि पहला अवयव एक विषम संख्या है और अंतिम अवयव एक सम संख्या है, तो पहले और अंतिम अवयवों को \$ के रूप में कूटबद्ध किया जाएगा।

निम्नलिखित समूह के लिए क्या कूट होगा?

% 2 @ # 3 ?

- Ans
- A. LDAPM
 - B. MDAPL
 - C. LPADM
 - D. MPADL

Question ID : 630680182772
Status : Answered
Chosen Option : D

Section : Quantitative Aptitude

Q.1 एक फल विक्रेता के पास कुछ सेब और संतरे थे। उसने 25% सेब व्यक्ति A को बेचे, शेष बचे सेबों में से 40% व्यक्ति B को बेचे और उसके पास 45 सेब बचे। इसी तरह, उसने 35% संतरे A को बेचे, 80 संतरे B को बेचे और उसके पास 15% संतरे बचे। प्रारंभ में फल विक्रेता के पास कुल कितने सेब और संतरे थे?

- Ans
- A. 280
 - B. 270
 - C. 240
 - D. 260

Question ID : 630680184630
Status : Answered
Chosen Option : D

Q.2 दी गई तालिका का अध्ययन करें और नीचे दिए गए प्रश्न का उत्तर दें। तालिका प्राथमिक, माध्यमिक और उच्चतर माध्यमिक स्तरों पर पाठ्य पुस्तकों की बिक्री को दर्शाती है।

वर्ष	प्राथमिक	माध्यमिक	उच्चतर माध्यमिक
2005	42,137	8,820	65,303
2006	53,568	10,285	71,602
2007	58,770	16,437	73,667
2008	56,872	15,475	71,668
2009	66,213	17,500	78,697
2010	68,718	20,177	82,175

2005 से 2010 तक निम्नलिखित में से कौन सा स्तर सबसे कम विकास दर दर्शाता है?

- Ans
- A. केवल उच्चतर माध्यमिक
 - B. प्राथमिक और माध्यमिक
 - C. केवल प्राथमिक
 - D. प्राथमिक और उच्चतर माध्यमिक

Question ID : 630680184673
Status : Answered
Chosen Option : A

Q.3 P ने Q से 12.5% छूट पर एक ऐनक खरीदी। ऐनक का अंकित मूल्य, उसके लागत मूल्य से 60% अधिक है, जिससे Q ने ₹180 का लाभ कमाया। Q द्वारा दी जाने वाली छूट (₹ में) जात कीजिए।

- Ans
- A. 100
 - B. 90
 - C. 110
 - D. 85

Question ID : 630680184639
Status : Answered
Chosen Option : B

Q.4 दिया गया है कि $\sqrt{19} = 4.35$ और $\sqrt{190} = 13.78$, तो $\sqrt{1.9} + \sqrt{1900} + \sqrt{0.019}$ का मान क्या होगा?

- Ans
- A. 46.0186
 - B. 45.0158
 - C. 48.0542
 - D. 43.0142

Question ID : 630680184606
Status : Answered
Chosen Option : D

Q.5 किसी विशिष्ट यात्रा का आधा भाग 30 km/h की चाल से, एक तिहाई भाग 40 km/h की चाल से और शेष भाग 35 km/h की चाल से तय किया जाता है। पूरी यात्रा में औसत चाल ज्ञात कीजिए।

- Ans
- A. 31.8 km/h
 - B. 38.2 km/h
 - C. 33.6 km/h
 - D. 35.4 km/h

Question ID : 630680184617
Status : Answered
Chosen Option : C

Q.6 $\frac{2}{5}, \frac{3}{8}, \frac{4}{9}$ और $\frac{5}{12}$ में सबसे बड़ी और सबसे छोटी भिन्नों के बीच कितना अंतर है?

- Ans
- A. $\frac{2}{45}$
 - B. $\frac{1}{36}$
 - C. $\frac{5}{72}$
 - D. $\frac{1}{24}$

Question ID : 630680177951
Status : Answered
Chosen Option : C

Q.7 कुशल ने ₹50,000 में एक बाइक खरीदी और ₹20,000 में अपने बेटे के लिए एक साइकिल खरीदी। उसने बाइक को 10% के लाभ पर और साइकिल को 20% की हानि पर बेचा। निवल लाभ या हानि क्या है?

- Ans
- A. $\frac{10}{7}$ % लाभ
 - B. 1.8% हानि
 - C. 1.5% हानि
 - D. 20% लाभ

Question ID : 630680184634
Status : Answered
Chosen Option : A

Q.8 यदि A, B और C मिलकर किसी कार्य को 10 दिनों में पूरा कर सकते हैं, A अकेला उस कार्य को 20 दिनों में और B उसे 30 दिनों में पूरा कर सकता है, तो C अकेले उस कार्य को कितने दिनों में पूरा कर सकता है?

- Ans
- A. 40 दिन
 - B. 60 दिन
 - C. 30 दिन
 - D. 50 दिन

Question ID : 630680184667
Status : Answered
Chosen Option : B

Q.9 एक थैले में कुछ लाल कंचे हैं और शेष नीले कंचे हैं। यदि थैले में से एक लाल कंचा निकाला जाता है, तो लाल कंचों की संख्या और शेष कंचों की संख्या का अनुपात 1 : 3 हो जाता है। यदि थैले में से दो नीले कंचे निकाले जाते हैं, तो लाल कंचों की संख्या और शेष कंचों की संख्या का अनुपात 3 : 4 हो जाता है। थैले में कितने नीले कंचे हैं?

- Ans
- A. 5
 - B. 6
 - C. 7
 - D. 8

Question ID : 630680184681
Status : Not Answered
Chosen Option : --

Q.10 किसी परीक्षा में A और B के बीच अंकों के प्रतिशत का अनुपात 5 : 4 है। अगली परीक्षा में, पिछली परीक्षा की तुलना में A को 5 अंक अधिक मिलते हैं, और B को 15 अंक अधिक मिलते हैं, और नया अनुपात 16 : 15 हो जाता है। A के मूल अंक ज्ञात कीजिए।

- Ans
- A. 55
 - B. 70
 - C. 60
 - D. 75

Question ID : 630680179581
Status : Answered
Chosen Option : D

Q.11 केंद्र पर 81° का कोण बनाने वाले चाप की लंबाई 99 cm है। वृत्त का क्षेत्रफल (cm^2 में) क्या है? ($\pi = 3.14$ लें)

- Ans
- A. 325
 - B. 330
 - C. 321
 - D. 314

Question ID : 630680184692
Status : Not Answered
Chosen Option : --

Q.12 एक व्यक्ति ने एक योजना में चार वर्षों के लिए एक निश्चित राशि का निवेश किया, जिसमें पहले 2 वर्षों के लिए 12.5% वार्षिक चक्रवृद्धि ब्याज और शेष समय के लिए संचित राशि पर 20% का साधारण ब्याज दिया जाता है। यदि उसके द्वारा प्राप्त किया गया साधारण ब्याज ₹3,809 है, तो उसके द्वारा निवेश की गई राशि ज्ञात कीजिए।

Ans A. ₹7,328.10

B. ₹7,523.95

C. ₹7,420.35

D. ₹7,248.25

Question ID : 630680184655

Status : Not Answered

Chosen Option : --

Q.13 किसी राशि का 40% भाग, 5% प्रति वर्ष की दर से दो वर्षों के लिए निवेश किया जाता है और शेष राशि को 10% प्रति वर्ष की दर से दो वर्षों के लिए निवेश किया जाता है। यदि दो वर्ष के अंत में कुल साधारण ब्याज के रूप में ₹1,280 प्राप्त होते हैं, तो निवेश की गई कुल राशि क्या है?

Ans A. ₹8,000

B. ₹7,500

C. ₹6,750

D. ₹6,000

Question ID : 630680184651

Status : Answered

Chosen Option : A

Q.14 मीनू और वीनू, किसी कार्य को क्रमशः 40 दिन और 56 दिन पूरा कर सकती हैं। यदि वे बारी-बारी से काम करती हैं, तथा मीनू पहले काम शुरू करती है, तो कार्य कितने दिन में पूरा होगा?

Ans A. $41\frac{1}{6}$

B. $38\frac{2}{5}$

C. $46\frac{4}{7}$

D. $36\frac{1}{9}$

Question ID : 630680179606

Status : Answered

Chosen Option : C

Q.15 किसी समद्विबाहु त्रिभुज के आधार पर खींचा गया शीर्ष लंब (altitude) 12 cm और परिमाप 48 cm है। त्रिभुज का क्षेत्रफल cm^2 में ज्ञात कीजिए।

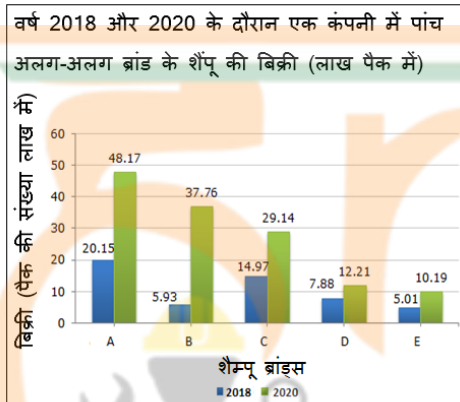
- Ans
- A. 188
 - B. 108
 - C. 172
 - D. 154

Question ID : 630680179630

Status : Not Answered

Chosen Option : --

Q.16 एक कंपनी शैंपू A, B, C, D और E के पांच अलग-अलग ब्रांड उपलब्ध कराती है। वर्ष 2018 और 2020 के दौरान इन पांच ब्रांडों की बिक्री (लाख पैक में) निम्नलिखित स्तंभ-आलेख में दिखाई गई है।



2020 में ब्रांड A शैम्पू की बिक्री 2020 में ब्रांड B शैम्पू की बिक्री से कितने प्रतिशत अधिक थी? (निकटतम पूर्णांक तक पूर्णांकित)

- Ans
- A. 28%
 - B. 35%
 - C. 32%
 - D. 23%

Question ID : 630680184675

Status : Answered

Chosen Option : A

Q.17 दो संख्याओं का म.स.प. (HCF) 12 है और उनका ल.स.प. (LCM) 144 है। यदि उन संख्याओं में से एक 48 है, तो उन दोनों संख्याओं के बीच अंतर क्या होगा?

- Ans
- A. 36
 - B. 48
 - C. 12
 - D. 42

Question ID : 630680184612

Status : Answered

Chosen Option : C

Q.18 किसी आयत की लंबाई तथा चौड़ाई, क्रमशः $(x+3y)$ इकाई और $(9x-y)$ इकाई है। इस आयत का परिमाण, किसी वर्ग के परिमाण के बराबर है। वर्ग के क्षेत्रफल तथा आयत के क्षेत्रफल के बीच अंतर ज्ञात कीजिए।

- Ans
- A. $6x^2 - 7xy + 4y^2$
 - B. $16x^2 - 16xy + 4y^2$
 - C. $21x^2 + 17xy - 4y^2$
 - D. $25x^2 + 16xy + 15y^2$

Question ID : 630680179617
Status : Answered
Chosen Option : B

Q.19 काटे गए बरगद के पेड़ों की संख्या और लगाए गए अशोक के पेड़ों की संख्या क्रमशः 4 : 7 के अनुपात में है। लगाए गए अशोक के पेड़ों की संख्या, लगाए गए आम के पेड़ों की संख्या से 12.5% कम है, जो कि काटे गए नीम के पेड़ों की संख्या से 33.33% अधिक है। काटे गए पेड़ों की संख्या और लगाए गए पेड़ों की संख्या का अनुपात ज्ञात कीजिए।

- Ans
- A. 4 : 1
 - B. 2 : 1
 - C. 1 : 3
 - D. 2 : 3

Question ID : 630680184647
Status : Not Answered
Chosen Option : --

Q.20 एक बस पहली एक-चौथाई दूरी 40 km/h की चाल से तय करती है, शेष दूरी की आधी दूरी 60 km/h की चाल से और शेष दूरी x km/h की चाल से तय करती है, और इस यात्रा को पूरा करने में 14 h लगते हैं। यदि बस की औसत चाल $45\frac{5}{7}$ kmph है, तो x का मान ज्ञात करें।

- Ans
- A. 40
 - B. 45
 - C. 50
 - D. 55

Question ID : 630680184659
Status : Not Answered
Chosen Option : --

Q.21 यदि लम्बकेन्द्र, केन्द्रक, अन्तःकेन्द्र और परिकेन्द्र एक त्रिभुज ABC में संपाती हैं, और यदि भुजा AB की लंबाई $5\sqrt{3}$ cm है, तो शीर्ष A से होकर त्रिभुज के शीर्षलंब की लंबाई क्या है?

- Ans
- A. 5.2 cm
 - B. 8.6 cm
 - C. 6.4 cm
 - D. 7.5 cm

Question ID : 630680184694
Status : Not Answered
Chosen Option : --

Q.22 एक आदमी 5 km/h की चाल से एक स्थान तक यात्रा करता है। वह 9 km/h की चाल से साइकिल द्वारा वापसी करता है। आने-जाने की पूरी यात्रा के दौरान उसकी औसत चाल क्या है? (दो दशमलव स्थानों तक सही)

- Ans
- ✓ A. 6.43 km/h
 - ✗ B. 6.82 km/h
 - ✗ C. 6.54 km/h
 - ✗ D. 6.84 km/h

Question ID : 630680184623

Status : Answered

Chosen Option : A

Q.23 एक त्रिभुज का परिमाण 36 cm है और त्रिभुज की अंतःत्रिज्या 5.5 cm है। त्रिभुज का क्षेत्रफल क्या होगा?

- Ans
- ✗ A. 72 cm²
 - ✓ B. 99 cm²
 - ✗ C. 91 cm²
 - ✗ D. 84 cm²

Question ID : 630680184684

Status : Not Answered

Chosen Option : --

Q.24 X और Y क्रमशः 500 m और 400 m की लंबाई की दो ट्रेनें हैं, जो समानांतर लाइनों पर चल रही हैं। जब वे एक ही दिशा में चलती हैं तो उन्हें एक दूसरे को पार करने में 60 sec का समय लगता है। जब वे विपरीत दिशा में चलती हैं, तो वे एक-दूसरे को पार करने में 20 sec का समय लेती हैं। दोनों ट्रेनों की चाल क्रमशः (km/h में) ज्ञात कीजिए।

- Ans
- ✗ A. 132 और 66 km/h
 - ✓ B. 108 और 54 km/h
 - ✗ C. 128 और 64 km/h
 - ✗ D. 112 और 56 km/h

Question ID : 630680184661

Status : Answered

Chosen Option : B

Q.25 एक व्यक्ति खरीदारी के लिए जितने पैसे ले गया था, उसका 40% खर्च करने के बाद उसके पास ₹4,200 बचे। वह अपने साथ कितने पैसे ले गया था?

- Ans
- ✗ A. ₹8,000
 - ✓ B. ₹7,000
 - ✗ C. ₹7,500
 - ✗ D. ₹6,000

Question ID : 630680184625

Status : Answered

Chosen Option : B